
 03100759	 Septiembre - 2017	Geografía (PCE)		100
		PRUEBA DE ACCESO A LA UNIVERSIDAD		
Ninguno		Duración: 90 min.	EXAMEN: Tipo A Mixto	MODELO 12
				Hoja 1 de 5

MODELO 12

INSTRUCCIONES GENERALES

- El examen consta de tres partes de contestación obligatoria cada una de ellas.
- No está autorizado el uso de ningún tipo de material.
- Las respuestas deben realizarse en español.



Criterios generales de evaluación:

- En la prueba objetiva el acierto en la respuesta.
- En las preguntas de desarrollo: el ajuste de la respuesta a lo preguntado, la precisión de los términos geográficos, el orden expositivo, la ortografía y corrección sintáctica.
- En la práctica: el análisis y la interpretación concisa del gráfico o mapa de que se trate, así como la localización y enumeración correcta de los aspectos geográficos preguntados, siguiendo el esquema que se le proponga o su propio criterio si no se le indica otra cosa, así como la ortografía y la corrección sintáctica.

La puntuación final será el resultado de la suma de los tres apartados:

- La prueba objetiva ponderará el 30% de la nota total del examen
- La prueba de desarrollo ponderará el 40% de la nota total del examen
- La prueba práctica ponderará el 30% de la nota total del examen.

NO OLVIDE ENTREGAR EL ENUNCIADO

 03100759		Geografía (PCE)		100
		PRUEBA DE ACCESO A LA UNIVERSIDAD		
Septiembre - 2017	Duración: 90 min.	EXAMEN: Tipo A Mixto	MODELO 12	
Ninguno				Hoja 2 de 5

PRUEBA OBJETIVA
SEÑALE LA OPCIÓN CORRECTA EN FUNCIÓN DEL ENUNCIADO
(CONTESTE EN LA HOJA DE LECTURA ÓPTICA QUE SE LE ENTREGARÁ CON EL EXAMEN)

1. ¿Qué opción se ajusta más a la definición de paisaje cultural?
 - a) Es el que los pintores plasman en sus cuadros
 - b) Es la expresión fisonómica de la superficie terrestre como resultado de la interacción de la actividad humana con los elementos del medio físico
 - c) Es aquel que se cultiva

2. En un mapa de escala 1/100 000 la distancia en línea recta que separa a dos ciudades es de 22,5 cm. ¿Cuál es la distancia real, en línea recta, entre ambas ciudades?
 - a) 2250 metros
 - b) 225 metros
 - c) 22 500 metros

3. Las regiones de litología caliza son muy frecuente en España, especialmente en
 - a) Galicia
 - b) Extremadura
 - c) En las cordilleras de plegamiento de edad alpina



4. La gota fría es un fenómeno meteorológico
 - a) Exclusivo de las costas mediterráneas
 - b) Que provoca un descenso generalizado de las temperaturas (gota fría)
 - c) Caracterizado por el embolsamiento de aire frío en las capas altas de la atmósfera que puede originar precipitaciones muy intensas, aunque no siempre

5. ¿Qué representa una isoterma en un mapa?
 - a) Los puntos con el mismo valor de calor
 - b) Los puntos con el mismo grado de temperatura
 - c) Los puntos con igual valor de altitud

6. El alcornoque (*quercus suber*) es un árbol típico del clima mediterráneo
 - a) No, es del clima oceánico porque tiene elevadas necesidades de humedad
 - b) Especialmente se localiza en el sudeste peninsular
 - c) Su región de máximo desarrollo se encuentra en Extremadura

7. Los mares mesozoicos dejaron sedimentos en toda España
 - a) Sí, excepto en Canarias que no hay sedimentos de origen marino de esa edad
 - b) Solo en las áreas más próximas a las costas
 - c) Los mares mesozoicos llegaron a cubrir, total o parcialmente, la mitad oriental de la actual España peninsular hasta aproximadamente el meridiano que pasa por Segovia.

8. La tendencia de la tasa de mortalidad general, en España, es en los últimos años de
 - a) Incremento año tras año por el envejecimiento de la población
 - b) Incremento año tras año por el descenso de la natalidad
 - c) Descenso por el incremento del nivel de vida



 03100759		Geografía (PCE)		100
		PRUEBA DE ACCESO A LA UNIVERSIDAD		
Septiembre - 2017	Duración: 90 min.	EXAMEN: Tipo A Mixto	MODELO 12	
Ninguno				Hoja 3 de 5

9. El paisaje agrario del norte de España se caracteriza por
- Su poblamiento concentrado
 - El predominio del minifundio
 - El predominio de campos abiertos
10. La Comunidad Autónoma más extensa es
- Andalucía
 - Castilla La Mancha
 - Castilla y León

ENGLISH

Mark the option that best responds to the question. There is only one correct option per question.

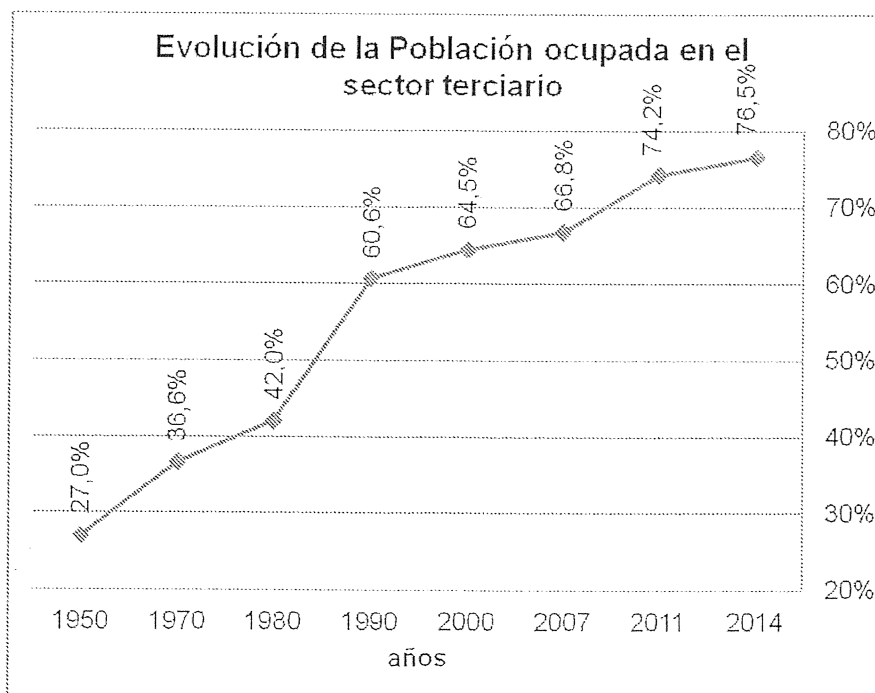
- 1 Which is the best definition of cultural landscape?
- That which painters depict in their paintings
 - The physiognomic expression of the land surface as a result of the interaction of human activity with the elements of the physical environment
 - That which is cultivated
- 2 In a map with a scale of 1/100 000, the distance, in a straight line, that separates two cities is 22.5 cm. What is the real distance, in a straight line, between these cities?
- 2250 meters
 - 225 meters
 - 22 500 meters
- 3 Regions of limestone lithology are very frequent in Spain, especially in
- Galicia
 - Extremadura
 - In the mountain ranges of the Alpine age folding
- 4 The cold drop is a meteorological phenomenon that
- Is exclusive to Mediterranean coasts
 - Causes a generalized decrease in temperatures (cold drop)
 - Is characterized by the encircling of cold air in the upper layers of the atmosphere that may lead to very intense precipitations, although not always

 03100759	 Septiembre - 2017	Geografía (PCE)	100
		PRUEBA DE ACCESO A LA UNIVERSIDAD	
Ninguno		Duración: 90 min.	EXAMEN: Tipo A Mixto
			MODELO 12
			Hoja 5 de 5

**PRUEBA DE DESARROLLO
(CONTESTE DOS DE LAS CUATRO PREGUNTAS)**

- La distribución de las precipitaciones en España: cite las áreas con mayor y menor precipitación, indicando una cifra de referencia de los mm anuales de precipitación. ¿Existe relación entre la precipitación y la configuración del relieve peninsular?
- Describa la disposición típica de los centros de acción para que a la península le afecte una situación atmosférica del oeste. ¿En qué regiones lloverá más? ¿Se producirán bajadas generalizadas de las temperaturas? Explique los tipos de tiempo asociados a esta situación según las regiones afectadas
- Los movimientos emigratorios exteriores españoles en el siglo XX. Cite dos atendiendo a su destino, características de la emigración, lugares de origen y periodos de emigración.
- Las áreas volcánicas españolas. Enumérelas, características geológicas y cronología.

PRUEBA PRÁCTICA



- Explique qué se entiende por el sector terciario.
- Enumere los principales subsectores que integran el terciario
- Describa las causas que explican el incremento del sector terciario español
- ¿Qué sectores han disminuido para que se incremente el sector terciario?
- ¿El turismo ha tenido importancia en el desarrollo del sector terciario? Razone la respuesta.