
 03100759	 Junio - 2018	Geografía (PCE)		100
		PRUEBA DE ACCESO A LA UNIVERSIDAD		
		Duración: 90 min.	EXAMEN: Tipo - Mixto	MODELO 01
Material: Ninguno				Hoja 1 de 6

MODELO 1

INSTRUCCIONES GENERALES

- El examen consta de tres partes de contestación obligatoria cada una de ellas.
- No está autorizado el uso de ningún tipo de material.
- Las respuestas deben realizarse en español.



Criterios generales de evaluación:

- En la prueba objetiva el acierto en la respuesta.
- En las preguntas de desarrollo: el ajuste de la respuesta a lo preguntado, la precisión de los términos geográficos, el orden expositivo, la ortografía y corrección sintáctica.
- En la práctica: el análisis y la interpretación concisa del gráfico o mapa de que se trate, así como la localización y enumeración correcta de los aspectos geográficos preguntados, siguiendo el esquema que se le proponga o su propio criterio si no se le indica otra cosa, así como la ortografía y la corrección sintáctica.

La puntuación final será el resultado de la suma de los tres apartados:

- La prueba objetiva ponderará el 30% de la nota total del examen.
- La prueba de desarrollo ponderará el 40% de la nota total del examen.
- La prueba práctica ponderará el 30% de la nota total del examen.

NO OLVIDE ENTREGAR EL ENUNCIADO

 03100759		Geografía (PCE)		100
		PRUEBA DE ACCESO A LA UNIVERSIDAD		
	Junio - 2018	Duración: 90 min.	EXAMEN: Tipo - Mixto	MODELO 01
Material: Ninguno				Hoja 2 de 6

PRUEBA OBJETIVA
SEÑALE LA OPCIÓN CORRECTA EN FUNCIÓN DEL ENUNCIADO
(CONTESTE EN LA HOJA DE LECTURA ÓPTICA QUE SE LE ENTREGARÁ CON EL EXAMEN)

- 1 ¿Qué escala nos permite más detalle de observación?
 - a) 1/100
 - b) 1/3000
 - c) 1/250

- 2 El paisaje es
 - a) Bonito o feo
 - b) Un producto cultural derivado de la intervención humana en el medio físico
 - c) Un producto cultural de la intervención humana sin importar las características del medio físico



- 3 Los paisajes asociados a la evolución geomorfológica de la caliza se denominan
 - a) Kársticos
 - b) Blancos
 - c) Abruptos

- 4 Siempre que hay gota fría se produce
 - a) Una fuerte precipitación
 - b) Sequía
 - c) Un embolsamiento de aire frío en altura

- 5 Un observatorio que muestra 10° de temperatura media mensual en enero y 24° en agosto y una precipitación anual de 475 mm se localizaría
 - a) En cualquier punto de la costa mediterránea
 - b) En cualquier punto de la costa mediterránea que no sea la región sudeste, pues la precipitación en el sudeste es más baja
 - c) Estaría en la costa mediterránea, pero excluyendo el sudeste y el tramo situado al norte de las costas del Garraf (Barcelona)

- 6 La altitud máxima de España la podemos encontrar en
 - a) Asturias
 - b) Andalucía
 - c) Canarias

- 7 El régimen fluvial mediterráneo se caracteriza por
 - a) Tener aguas bajas en verano si el régimen es natural
 - b) Por sus abundantes caudales
 - c) Porque en todos los meses lleva el mismo caudal, aunque el río no pase por una región kárstica



		Geografía (PCE)		100
		PRUEBA DE ACCESO A LA UNIVERSIDAD		
03100759	Junio - 2018	Duración: 90 min.	EXAMEN: Tipo - Mixto	MODELO 01
Material: Ninguno				Hoja 3 de 6

- 8 La dinámica demográfica de las Comunidades Autónomas es
- Similar en todas ellas
 - Muy diferente según los casos
 - De pérdida de población en todas las Comunidades Autónomas
- 9 La agricultura cerealística es más característica del paisaje agrario de
- Canarias
 - Galicia
 - Castilla y León
- 10 ¿Qué indican las curvas de nivel de un mapa cuando están muy próximas entre sí?
- Una fuerte pendiente
 - Que hay mucha altitud
 - Que estamos ante una llanura

ENGLISH

Mark the option that best responds to the question. There is only one correct option per question.

- Which scale allows us closer detail for observation?
 - 1/100
 - 1/3000
 - 1/250
- Landscape is
 - Attractive or unattractive
 - A cultural product derived from human intervention in the physical environment
 - A cultural product resulting from human intervention without regard for the physical environment characteristics
- Landscapes associated with geomorphological evolution of limestone are called
 - Karstic
 - White
 - Abrupt
- Whenever there is a cold drop there is
 - Heavy precipitation
 - Drought
 - An encircling of cold air in the atmosphere
- An observatory that reveals 10⁰ C of average monthly temperature in January and 24⁰ C in August and an annual precipitation of 475 mm would be located
 - In any point of the Mediterranean coast
 - In any point of the Mediterranean coast that is not in the southeastern region, given that the precipitation in the southeast is very low
 - Would be in the Mediterranean coast, but excluding the southeast and the section located to the north of the Garraf coasts (Barcelona)

 03100759	 Junio - 2018	Geografía (PCE)		100
		PRUEBA DE ACCESO A LA UNIVERSIDAD		
Material: Ninguno		Duración: 90 min.	EXAMEN: Tipo - Mixto	MODELO 01
				Hoja 4 de 6

- 6 The maximum altitude of Spain may be found in
 - a) Asturias
 - b) Andalusia
 - c) The Canary Islands

- 7 The Mediterranean river system is characterized by
 - a) Having low waters in the summer if the system is natural
 - b) Its abundant flows
 - c) In all months having the same flow level, although the river does not pass by a Karstic region



- 8 The demography dynamic of the Autonomous Communities is
 - a) Similar in all of these
 - b) Very different depending on the specific cases
 - c) Of a populational loss in all Autonomous Communities

- 9 Cereal agriculture is more typical in
 - a) The Canary Islands
 - b) Galicia
 - c) Castile and León

- 10 What do level curves on a map represent when they are very close to one another?
 - a) A harsh slope
 - b) Considerable altitude
 - c) That it is a flat surface


**PRUEBA DE DESARROLLO
(CONTESTE DOS DE LAS CUATRO PREGUNTAS)**

- a. La Meseta. Deberá responder de forma breve a lo siguiente: sus características altimétricas y topográficas, origen geológico, extensión y límites geográficos, sus rebordes montañosos, y ríos principales y unidades de relieve del interior meseteño.
- b. El clima oceánico (características, tipologías y regiones de clima oceánico en España).
- c. Los paisajes vegetales de la España peninsular. Deberá desarrollar el siguiente guion: factores que influyen en la vegetación; tipos de paisajes vegetales en la España peninsular. Cite al menos dos especies arbóreas más características de los distintos tipos de paisaje vegetal.
- d. La evolución de la mortalidad en el periodo 1981-2015



 03100759	 Junio - 2018	Geografía (PCE)		100
		PRUEBA DE ACCESO A LA UNIVERSIDAD		
Material: Ninguno		Duración: 90 min.	EXAMEN: Tipo - Mixto	MODELO 01
				Hoja 5 de 6

PRUEBA PRÁCTICA
DESARROLLE, SOLAMENTE, UNA DE LAS DOS OPCIONES

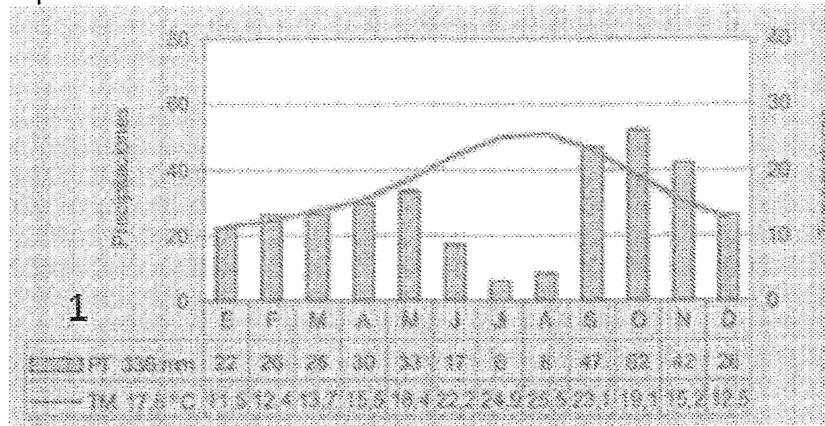
OPCIÓN A



- Señale, en este plano de la ciudad de Barcelona, el sector que se corresponde con la ciudad vieja, histórica o preindustrial
- ¿En qué se diferencia el ensanche de la ciudad vieja?
- ¿En qué año o época se diseñó este ensanche?
- ¿Quién fue su autor?

 03100759		Geografía (PCE)		100
		PRUEBA DE ACCESO A LA UNIVERSIDAD		
Junio - 2018	Duración: 90 min.	EXAMEN: Tipo - Mixto	MODELO 01	
Material: Ninguno				Hoja 6 de 6

Opción B



- Comente el climodiagrama (Temperatura mensual máxima y mínima, estacionalidad de las precipitaciones, etc.).
- ¿Qué amplitud térmica presenta?
- Defina el dominio climático en función de su comentario
- ¿En qué región o sector de España situaría la estación termopluiométrica de este climodiagrama?