
 <b>03100759</b>		Geografía (PCE)		<b>100</b>
		PRUEBA DE ACCESO A LA UNIVERSIDAD		
	Junio - 2019	Duración: 90 min.	EXAMEN: Tipo A Mixto	MODELO 01
Material: Ninguno				Hoja 1 de 5

MODELO 1A

**INSTRUCCIONES GENERALES**

- El examen consta de tres partes de contestación obligatoria cada una de ellas.
- No está autorizado el uso de ningún tipo de material.
- Las respuestas deben realizarse en español.

**Criterios generales de evaluación:**



- En la prueba objetiva el acierto en la respuesta.
- En las preguntas de desarrollo: el ajuste de la respuesta a lo preguntado, la precisión de los términos geográficos, el orden expositivo, la ortografía y corrección sintáctica.
- En la práctica: el análisis y la interpretación concisa del gráfico o mapa de que se trate, así como la localización y enumeración correcta de los aspectos geográficos preguntados, siguiendo el esquema que se le proponga o su propio criterio si no se le indica otra cosa, así como la ortografía y la corrección sintáctica.

La puntuación final será el resultado de la suma de los tres apartados:

- La prueba objetiva ponderará el 30% de la nota total del examen
- La prueba de desarrollo ponderará el 40% de la nota total del examen
- La prueba práctica ponderará el 30% de la nota total del examen.

**NO OLVIDE ENTREGAR EL ENUNCIADO**





 03100759		Geografía (PCE)		100
		PRUEBA DE ACCESO A LA UNIVERSIDAD		
	Junio - 2019	Duración: 90 min.	EXAMEN: Tipo A Mixto	MODELO 01
Material: Ninguno				Hoja 2 de 5

**PRUEBA OBJETIVA**  
**SEÑALE LA OPCIÓN CORRECTA EN FUNCIÓN DEL ENUNCIADO**  
**(CONTESTE EN LA HOJA DE LECTURA ÓPTICA QUE SE LE ENTREGARÁ CON EL EXAMEN)**

1. ¿Qué respuesta se ajusta más a la definición de geografía?
  - a) Es el compendio de toponimia e hidronimia de los lugares
  - b) Es la ciencia que explica, localiza y analiza los factores de distribución espacial de los fenómenos físicos y humanos, así como la interrelación de estos.
  - c) Es una ciencia territorial que explica la distribución espacial de los fenómenos físicos y humanos, pero no su interrelación
  
2. La geomorfología es
  - a) Una especialidad médica
  - b) Una disciplina que se estudia desde la geografía, pero también desde la geología
  - c) Una especialidad exclusiva de la geología sin ningún tipo de relación con la geografía
  
3. ¿Se representa el relieve en un mapa?
  - a) No, porque el mapa solo tiene dos dimensiones
  - b) Solo se representa el relieve si el área representada es muy extensa
  - c) Sí, en los mapas se puede representar el relieve
  
4. La escala de un mapa 1/50000 es una escala mayor que la de un mapa de 1/25000
  - a) Son iguales
  - b) Sí, porque su denominador es mayor que el mapa de 1/25000
  - c) No, porque el denominador es mayor que el mapa de 1/25000
  
5. En un mapa de escala 1/1000 000 la distancia en línea recta que separa a dos ciudades es de 22,5 cm. ¿Cuál es la distancia real, en línea recta, entre ambas ciudades?
  - a) 2250 metros
  - b) 225 000 metros
  - c) 22 500 metros
  
6. El relieve de Canarias está asociado a
  - a) La evolución del relieve peninsular
  - b) A procesos volcánicos de la corteza oceánica de la placa africana
  - c) Al vulcanismo asociado a la corteza continental de la placa africana
  
7. Los glaciares de la última fase glacial cubrieron
  - a) Toda la península Ibérica
  - b) Solo la mitad norte
  - c) Se formaron en las partes más elevadas de, prácticamente, todas las cordilleras y sistemas montañosos de España



 03100759	 Junio - 2019	Geografía (PCE)		100
		PRUEBA DE ACCESO A LA UNIVERSIDAD		
Material: Ninguno			Duración: 90 min.	EXAMEN: Tipo A Mixto
				MODELO 01 Hoja 3 de 5



8. La mortalidad infantil en España
  - a) Es de las más bajas del mundo
  - b) Está en torno a 10 muertos cada 1000 nacimientos
  - c) No se registra esta estadística
  
9. La actual pirámide demográfica española muestra
  - a) Una población joven y en expansión
  - b) Una desigual distribución territorial de la población
  - c) Una base estrecha y un ensanchamiento en las edades intermedias por encima del grupo de edad de 40 años
  
10. El paisaje agrario del norte de España se caracteriza por
  - a) Su poblamiento concentrado
  - b) El predominio del minifundio
  - c) El predominio de campos abiertos

### ENGLISH

Mark the option that best responds to the question. There is only one correct option per question.

- 1 Which option best explains the definition of geography?
  - a) It is a compendium of toponymic and hydronymic names of places
  - b) It is a science that explains, locates and analyses the factors of spatial distribution of physical and human phenomena, as well as their interrelationships.
  - c) It is a territorial science that explains the spatial distribution of physical and human phenomena, but not their interrelationships.
  
- 2 Geomorphology is
  - a) A medical specialty
  - b) A discipline that is studied both within geography and geology
  - c) An exclusive specialty of geology without any association with geography
  
- 3 Can a relief be represented on a map?
  - a) No, because a map has only two dimensions
  - b) A relief can only be represented if the area being represented is very extensive
  - c) Yes, reliefs can be represented on maps
  
- 4 The map scale of 1:50,000 is a scale larger than that of a 1:25,000 map
  - a) They are the same
  - b) Yes, because its denominator is larger than the 1:25,000 map
  - c) No, because the denominator is larger than the 1:25,000 map





 03100759		Geografía (PCE)		100
		PRUEBA DE ACCESO A LA UNIVERSIDAD		
	Junio - 2019	Duración: 90 min.	EXAMEN: Tipo A Mixto	MODELO 01
Material: Ninguno				Hoja 4 de 5

- 5 On a map with a scale of 1:1,000,000, the linear distance separating two cities is 22.5 cm. What is the actual linear distance between both cities?
  - a) 2,250 metres
  - b) 225,000 metres
  - d) 22,500 metres
  
- 6 The relief of the Canary Islands is associated with
  - a) The evolution of the Iberian Peninsular relief
  - b) Volcanic processes of the oceanic crust of the African Plate
  - c) Volcanism in connection with the continental crust of the African Plate
  
- 7 Glaciers during the last glacial period
  - a) Covered the entire Iberian Peninsula
  - b) Covered only the northern half
  - c) Essentially formed over the highest parts of all mountain ranges and mountainous chains throughout Spain
  
- 8 Infant mortality in Spain is
  - a) One of the lowest in the world
  - b) It is around 10 deaths for every 1,000 births
  - c) This statistic is not recorded
  
- 9 The current Spanish population pyramid depicts
  - a) A young and growing population
  - b) An unequal territorial distribution of the population
  - c) A narrow base and widening at intermediate ages above the 40 years of age group
  
- 10 The agricultural landscape of northern Spain is characterised by
  - a) Its concentrated settlement
  - b) The predominance of *minifundios* (smallholdings/small farmsteads)
  - c) The predominance of open fields

**PRUEBA DE DESARROLLO  
(CONTESTE BREVEMENTE DOS DE LAS CUATRO PREGUNTAS)**

- a. Características de la reconversión industrial española de los años ochenta: factores y causas de la reconversión, regiones afectadas y sectores industriales sometidos a procesos de reconversión.
- b. El paisaje de dehesa: características, localización y actividades desarrolladas en este tipo de paisaje
- c. Enumeración y características de las principales unidades de relieve asociadas a la orogenia Alpina.
- d. La evolución de la natalidad en el periodo 1940-1981



 <b>03100759</b>		Geografía (PCE)		100
		PRUEBA DE ACCESO A LA UNIVERSIDAD		
Junio - 2019	Duración: 90 min.	EXAMEN: Tipo A Mixto	MODELO 01	
Material: Ninguno			Hoja 5 de 5	

### PRUEBA PRÁCTICA

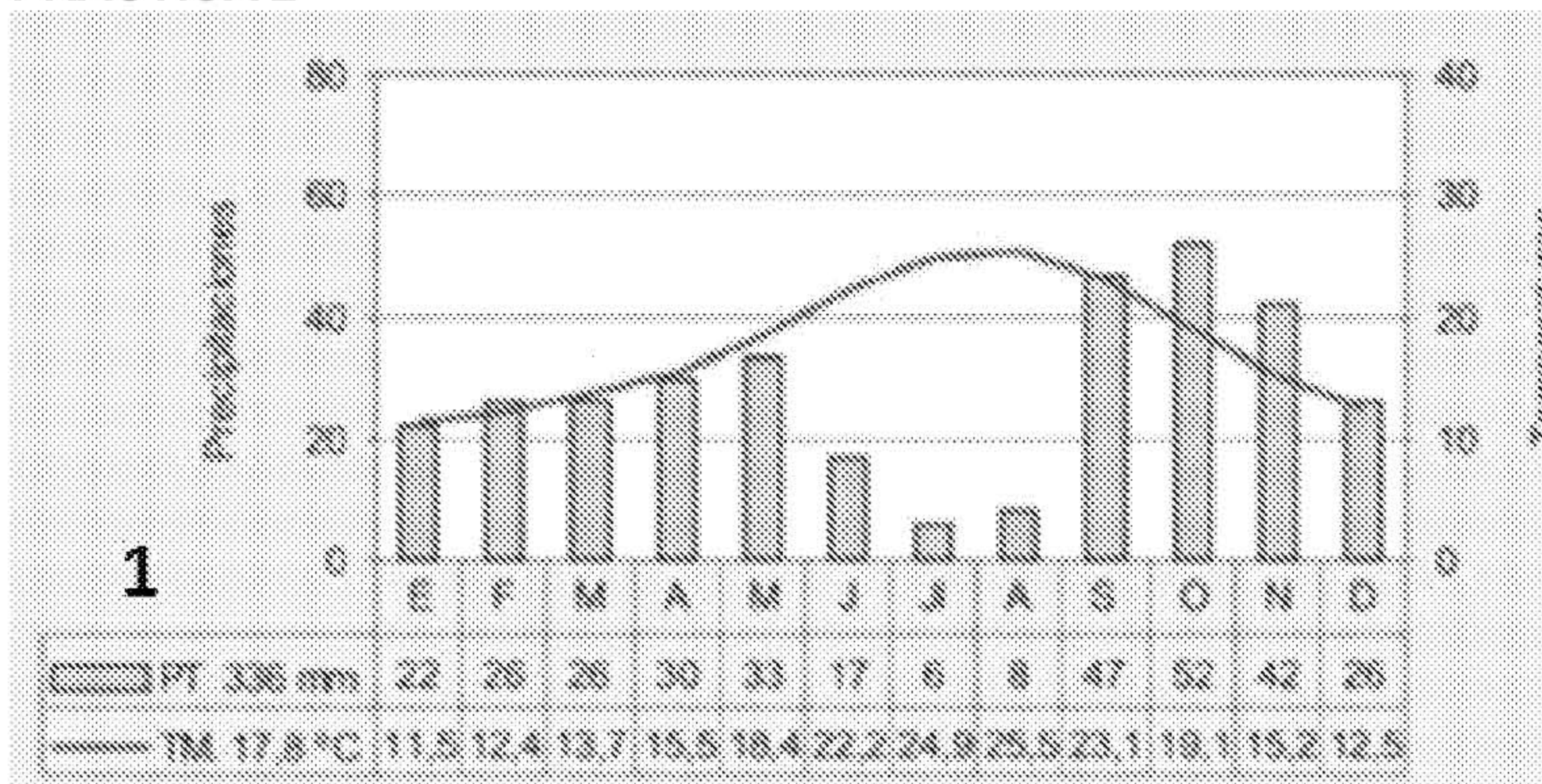
Responda a una de las dos prácticas propuestas.

#### PRÁCTICA 1.



1. ¿Cómo se denomina este tipo de plano o trama urbana?
2. ¿En qué momento histórico se diseña este tipo de plano urbano?
3. ¿Qué factores intervinieron para adoptar este tipo de solución?
4. Comente las características de esta tipología urbana.

#### PRÁCTICA 2



Comentario del climodiagrama: características, estacionalidad de las precipitaciones, dominio climático que representa y localización del área o región en la que se emplazaría el observatorio.