

**PRUEBA DE ACCESO Y ADMISIÓN A LA
UNIVERSIDAD**
CURSO 2017-2018

FÍSICA

- Instrucciones:**
- a) Duración: 1 hora y 30 minutos.
 - b) Debe desarrollar las cuatro preguntas de una de las dos opciones.
 - c) Puede utilizar calculadora no programable, ni gráfica ni con capacidad para almacenar o transmitir datos
 - d) Cada pregunta se calificará entre 0 y 2,5 puntos (hasta 1,25 puntos cada uno de sus apartados).

OPCIÓN A

1. a) Analice las siguientes proposiciones, razonando si son verdaderas o falsas: (i) sólo las fuerzas conservativas realizan trabajo; (ii) si sobre una partícula únicamente actúan fuerzas conservativas la energía cinética de la partícula no varía.

b) En la superficie de un planeta de 2000 km de radio, la aceleración de la gravedad es de 3 m s^{-2} . Calcule: (i) La masa del planeta; (ii) la velocidad de escape de un cuerpo desde la superficie.

$$G = 6,67 \cdot 10^{-11} \text{ N m}^2 \text{ kg}^{-2}$$

2. a) Razone si cuando se sitúa una espira circular de radio fijo, en reposo, en el seno de un campo magnético variable con el tiempo siempre se induce una fuerza electromotriz.

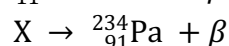
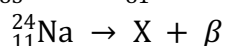
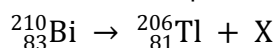
b) El flujo de un campo magnético que atraviesa cada espira de una bobina de 50 vueltas viene dado por la expresión: $\Phi(t) = 2 \cdot 10^{-2} + 25 \cdot 10^{-3} t^2$ (SI). Deduzca la expresión de la fuerza electromotriz inducida en la bobina y calcule su valor para $t = 10 \text{ s}$, así como la intensidad de corriente inducida en la bobina, si ésta tiene una resistencia de 5Ω .

3. a) Señale las diferencias entre lentes convergentes y divergentes, así como al menos un uso de cada una de ellas.

b) Desde el aire se observa un objeto luminoso que está situado a 1 m debajo del agua. (i) Si desde dicho objeto sale un rayo de luz que llega a la superficie formando un ángulo de 15° con la normal, ¿cuál es el ángulo de refracción en el aire?; (ii) calcule la profundidad aparente a la que se encuentra el objeto.

$$n_{\text{aire}} = 1; n_{\text{agua}} = 1,33$$

4. a) Complete, razonadamente, las reacciones nucleares siguientes especificando el tipo de nucleón o átomo representado por la letra X y el tipo de emisión radiactiva de que se trata:



b) Determine razonadamente la cantidad de ${}^3_1\text{H}$ que quedará, tras una desintegración beta, de una muestra inicial de 0,1 g al cabo de 3 años sabiendo que el periodo de semidesintegración del ${}^3_1\text{H}$ es 12,3 años, así como la actividad de la muestra al cabo de 3 años.

$$m({}^3_1\text{H}) = 3,016049 \text{ u}; 1\text{u} = 1,67 \cdot 10^{-27} \text{ kg}$$