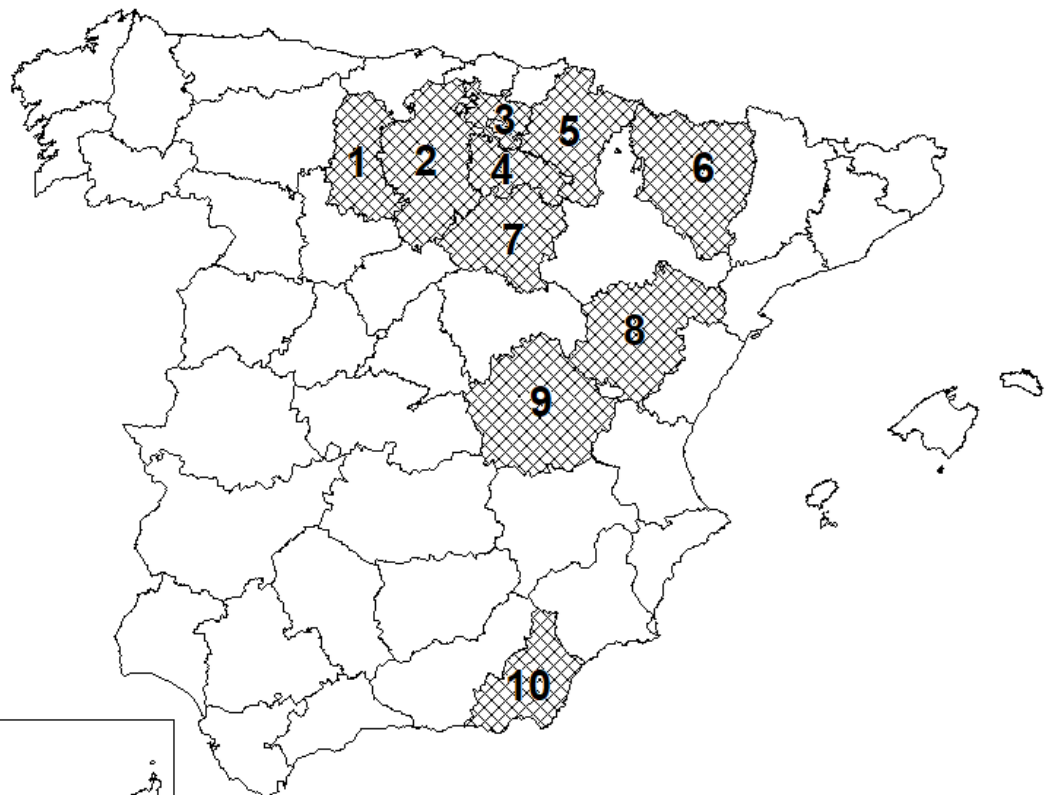


PROVINCIAS CON UN PORCENTAJE DE POBLACIÓN ACTIVA OCUPADA EN EL SECTOR SERVICIOS INFERIOR A 65,6 %. MEDIA NACIONAL = 76,2 %



0 100 200 km

FUENTE: INE. Encuesta Población Activa IV Trimestre 2015

Puntuación máxima: 2 Puntos

OPCIÓN B

SECCIÓN TEÓRICA

1ª Parte: Tema “La meseta y las unidades de relieve interiores”.

Desarrolle, de manera sintética, el tema propuesto atendiendo a los siguientes apartados (utilice, como máximo, una cara y media de un folio).

1. Características generales de la meseta.
2. Principales unidades interiores: localización y características geológicas.

Puntuación máxima: 2,5 Puntos

2ª Parte: Defina con precisión ocho de los diez **conceptos** siguientes (escriba, como máximo, una cara de un folio):

Explotación agrícola, O.P.E.P, Centro Comercial, Fotografía aérea, Latifundio, Energía de biomasa, Economía sumergida, Holding, A.V.E, Meandro.

Puntuación máxima: 2 Puntos

SECCIÓN PRÁCTICA

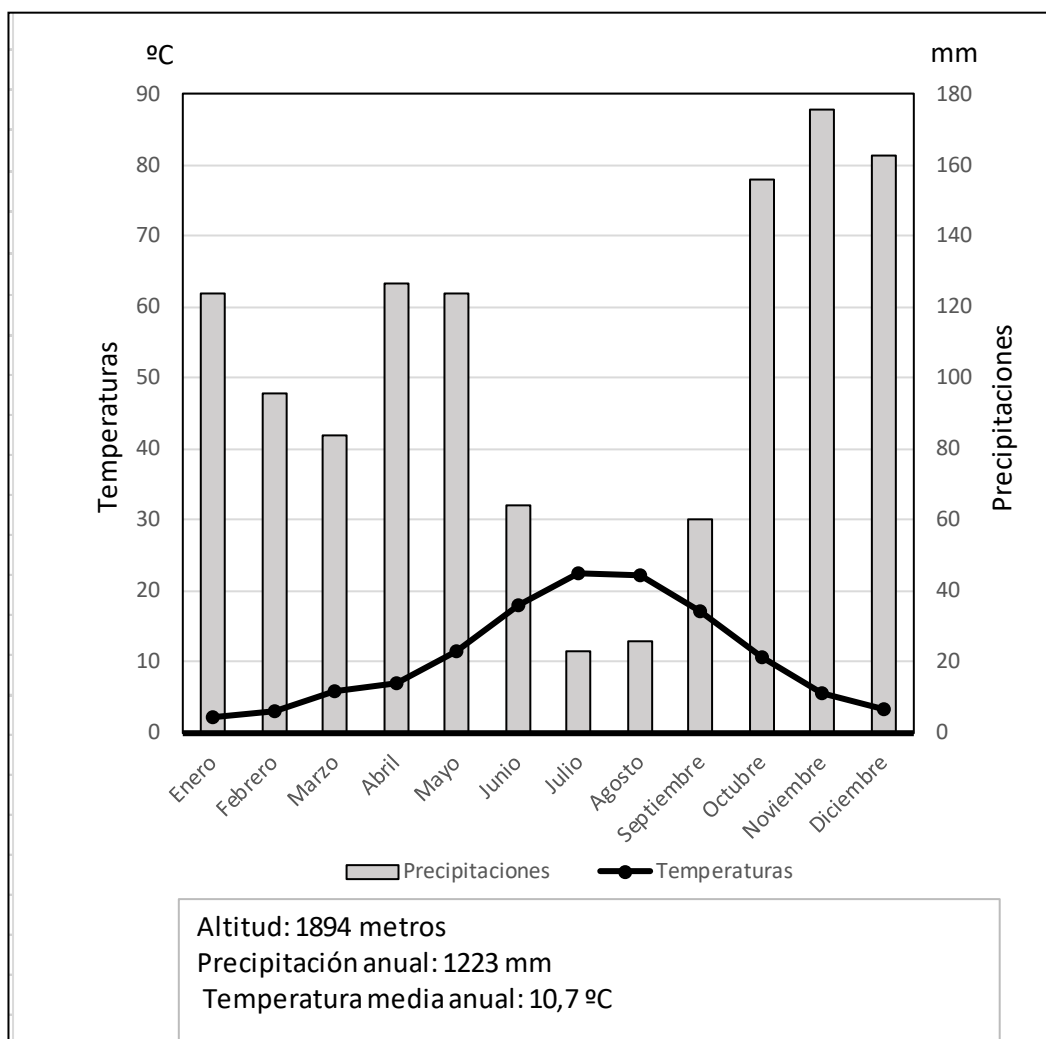
3ª Parte: Comente la **lámina etiquetada con la Opción B**, en el siguiente orden:

1. Elementos del medio físico.
2. Elementos del medio humano.
3. La relación entre ellos.
4. Indique el tipo de paisaje geográfico que muestra la fotografía.

Puntuación máxima: 1,5 Puntos

4ª Parte: Realice un comentario del siguiente climograma, atendiendo, al menos, a estos aspectos:

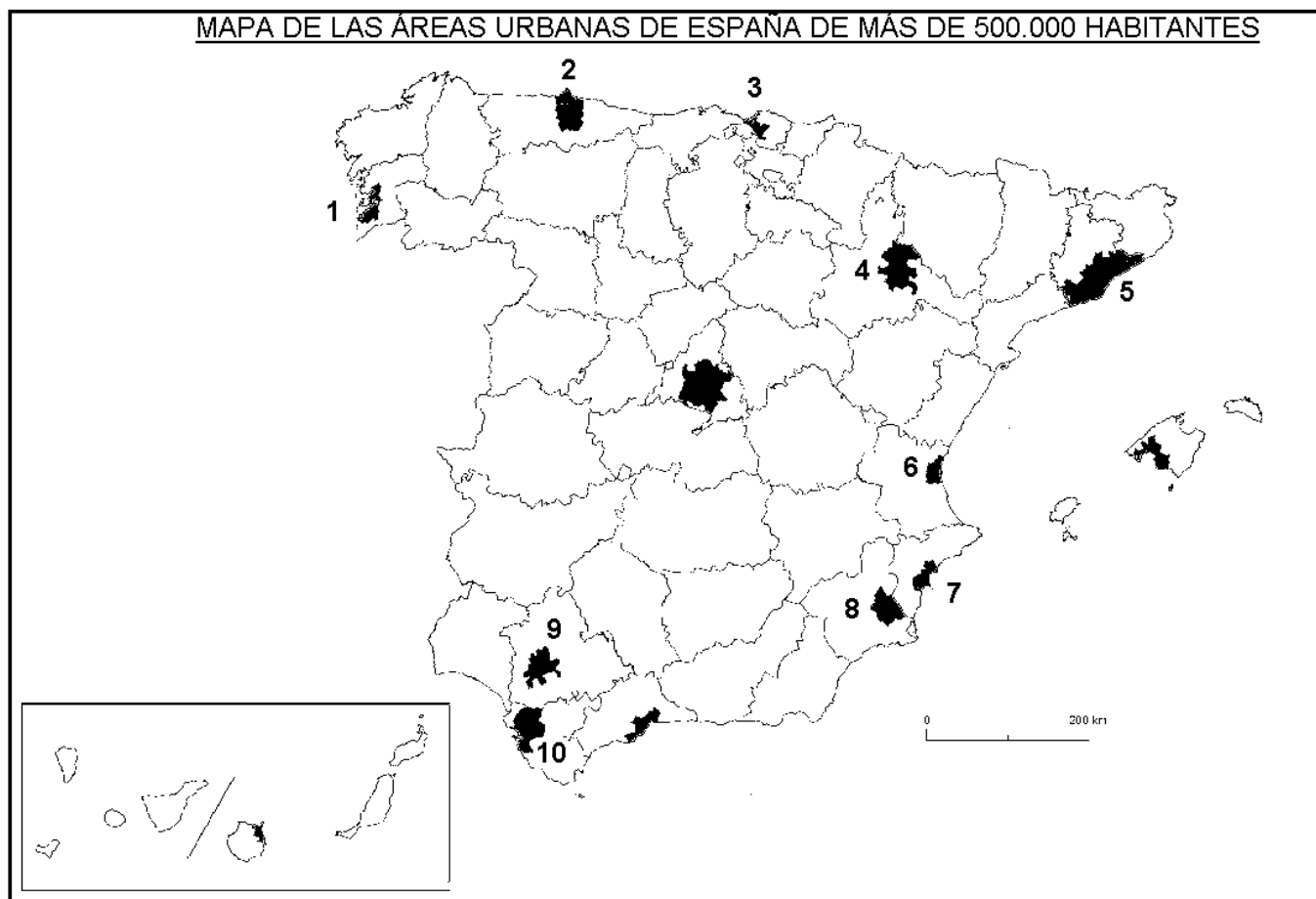
1. Régimen de las temperaturas medias mensuales y de las precipitaciones.
2. Pertenencia a alguna de las variedades climáticas de España, y su área de distribución.



	E	F	M	A	M	J	J	A	S	O	N	D	Media	Total
Temperaturas (° C)	2,3	3	5,8	7	11,5	18	22,4	22,2	17,2	10,6	5,6	3,3	10,7	
Precipitaciones (mm)	124	96	84	127	124	64	23	26	60	156	176	163		1.223

Puntuación máxima: 2 Puntos

5ª Parte: A la vista del “**Mapa de las áreas urbanas de España de mas de 500.000 habitantes,**” identifique y nombre cada una de las provincias donde se encuentran las áreas numeradas. Comente las posibles razones de esta distribución.



Fuente: Ministerio de Fomento

Puntuación máxima: 2 Puntos

LÁMINA

LÁMINA OPCIÓN B

